



GÉOPARCOURS DANS LES RUES DE NAMUR



"Ville de Namur - Pavillon de l'Aménagement urbain - Namur - Vue du Ciel, Jacques Verrees"

Activité d'orientation et de lecture des paysages urbains



Bienvenue à l'observatoire du paysage urbain de l'université de Namur

Nous te proposons de partir à la découverte d'un quartier de la capitale wallonne. Avec ton partenaire, vous allez suivre un itinéraire au cours duquel vous serez amenés à aiguïser votre sens de l'observation afin de répondre à une série de questions. L'activité dure environ une heure, déplacements compris. Vous devrez respecter le timing de l'épreuve afin de rester en phase avec les autres groupes.

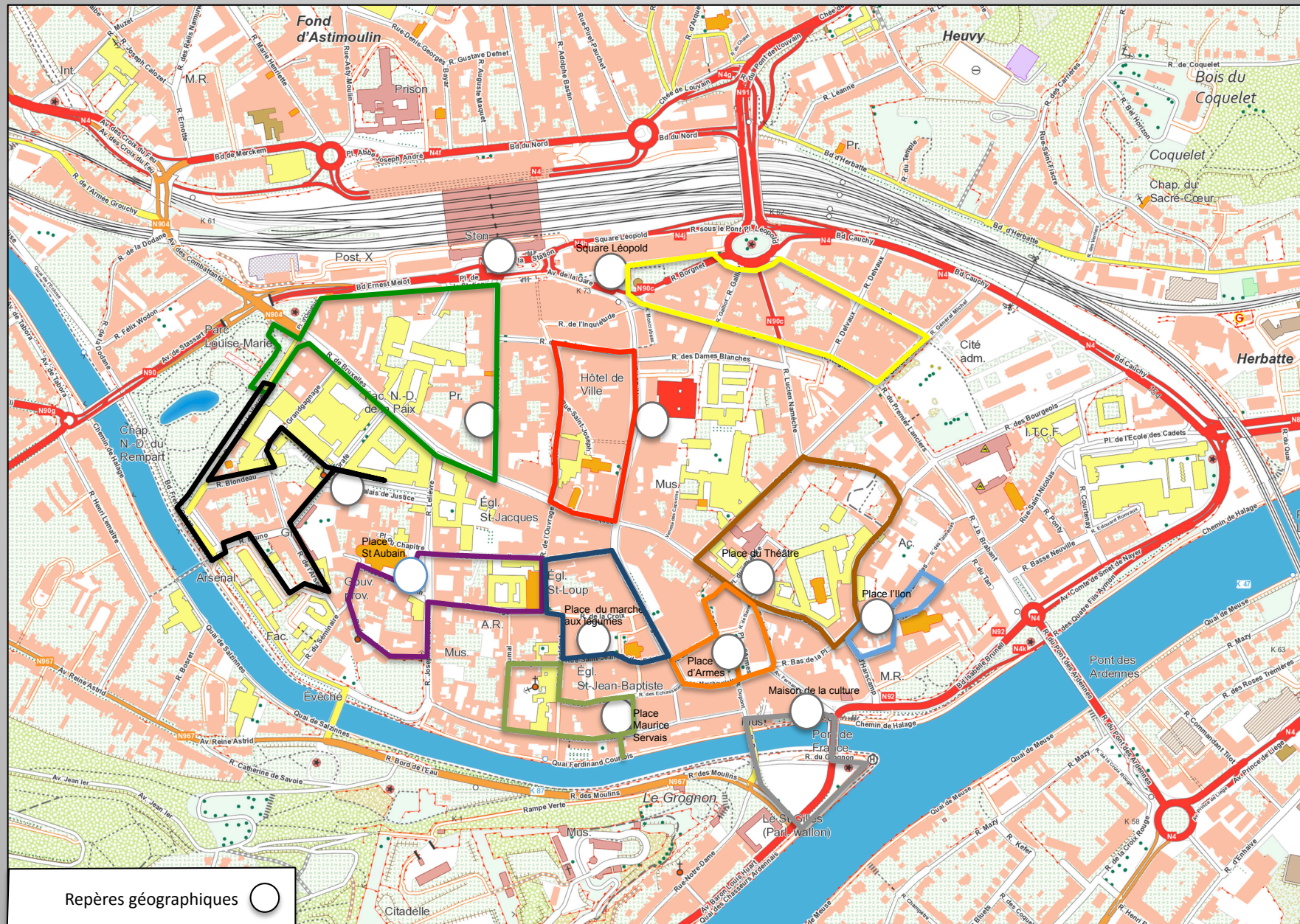


Les objectifs de cette activité sont de développer ton sens de l'orientation et celui de l'observation ... tout en passant un agréable moment à travers les rues et places de Namur !

N'oubliez pas de respecter les règles de sécurité ! Restez en groupe et surtout soyez prudents !



Namur : carte des 11 boucles de l'épreuve



Repères géographiques ○



Petit échauffement pour tous les groupes

Avant de vous rendre sur le terrain, positionnez et numérotez sur la carte de la page précédente les repères géographiques suivants qui structurent le différentes boucles :

1. Gare de Namur

2. Place du marché aux légumes

3. Place Saint - Aubain

4. Maison de la culture

5. Place d'Armes

6. Hôtel de Ville

7. Square Léopold

8. Place l'Ilon

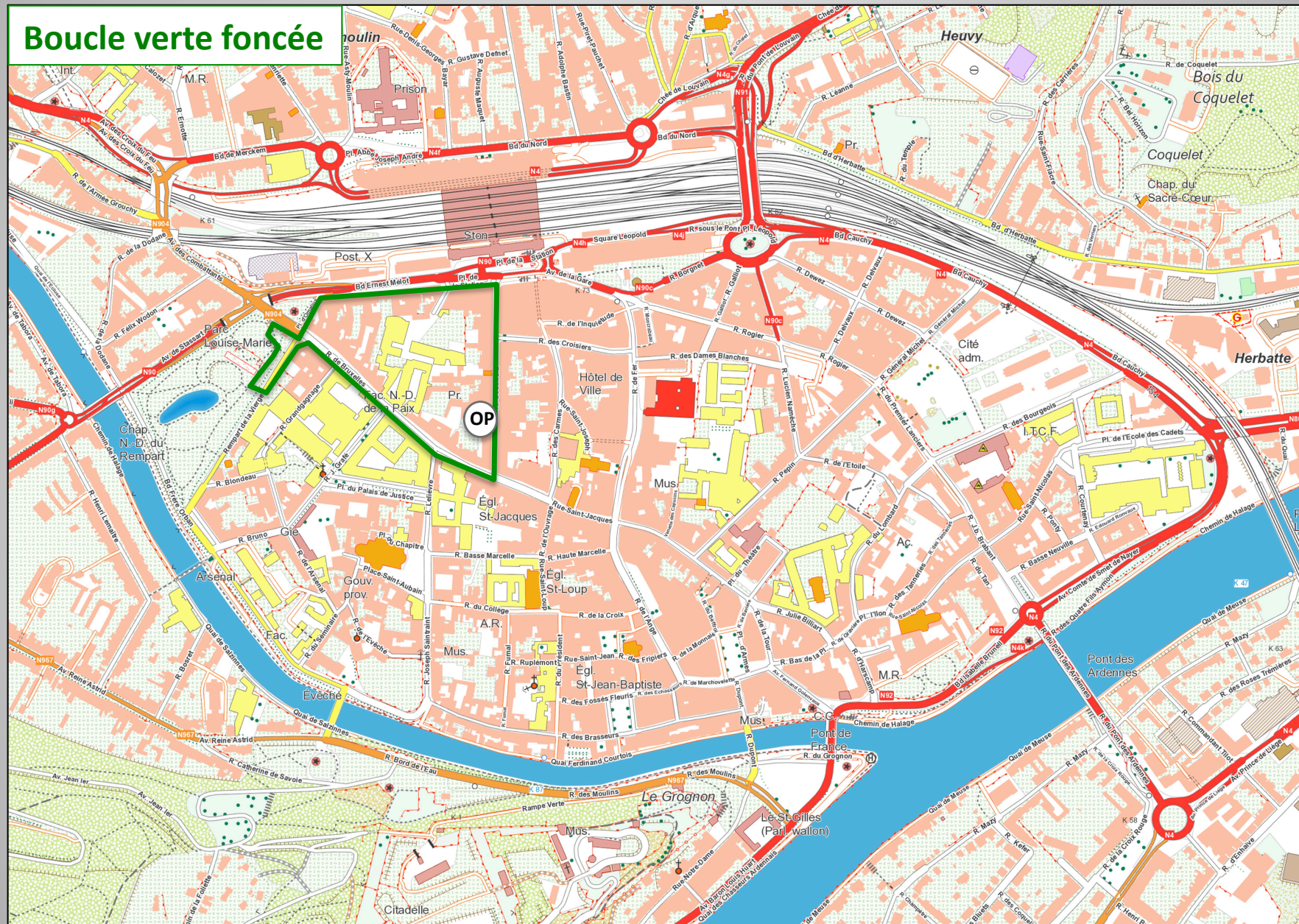
9. Place du palais de justice

10. Place du théâtre

11. Place Maurice Servais

12. Observatoire du Paysage – départ des activités

Boucle verte foncée





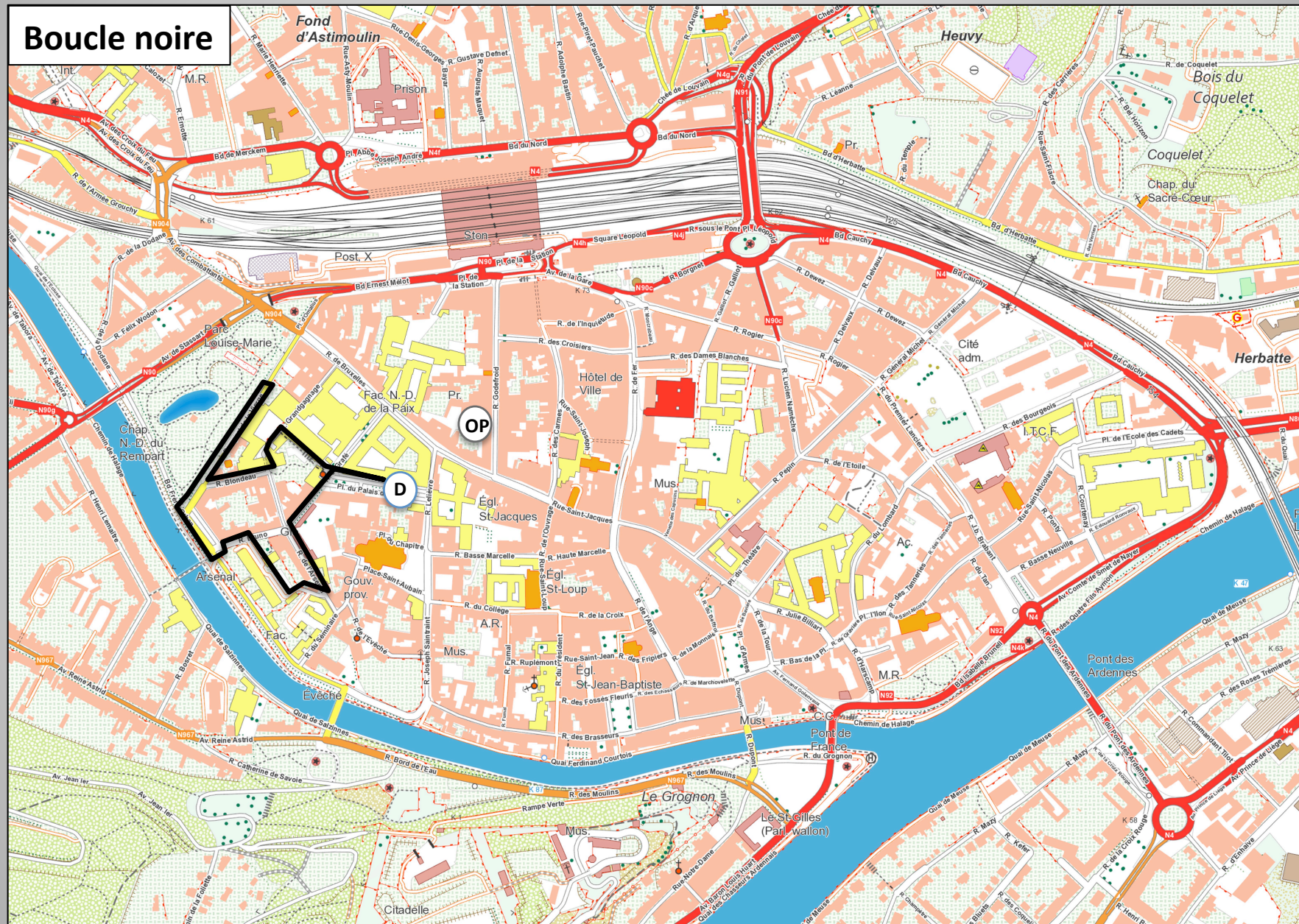
Désormais, tu es fin prêt pour démarrer ton itinéraire

Boucle verte foncée : dirigez-vous vers la gare

1. Observez la façade du Business & Learning Center. Quelle est sa date de construction et sa fonction ancienne ?
2. Identifiez un élément de sa façade qui témoigne de cette ancienne fonction ?
3. Quel est le nom de la rue dans laquelle se trouve le BLC ? Comment apparaît la forme de cette rue ?
4. Quel bâtiment imposant est bien visible au bout de la rue ?
5. Cette rue est-elle orientée Est/Ouest ou Nord/Sud ?
6. Quelles sont les deux voiries reliées par la rue Godfroid ?
7. Quel est le nom de la rue qui rejoint la rue Godfroid le long de ce tronçon ?
8. À ce niveau se trouve une maison originale. Pouvez-vous dire pourquoi ?
9. Quel était l'ancien nom de la rue Godfroid ?
10. Vous arrivez sur la place de la station. Observez les commerces, qu'ont-ils de particulier ?
11. Le long de quels itinéraires Eurovélo est situé la ville de Namur ?
12. Observez la façade de la gare. Entre quelles villes se trouvent Liège ? Est-ce exact ?
13. Pénétrez dans le hall de la gare. Relevez deux indices qui permettent d'affirmer que la gare est accessible aux personnes à mobilité réduite.
14. Prochainement, des travaux vont débuter au niveau de la gare de Namur. Pouvez-vous dire de quoi il s'agit ?
15. Quel projet est envisagé au niveau de l'actuel gare des bus et du C&A ?
16. Dirigez-vous vers l'Ouest. Vous apercevez sur le trajet un long bâtiment désaffecté. Quelle était sa fonction ?
17. Vous arrivez à hauteur d'une place occupée par une statue. Quel est le nom de cette place ? Pourquoi ce nom ?
18. Quelle passion avait cet homme ? Dans quel matériau a été fabriquée la statue ?
19. Quel est le nom du parc situé près de cette place ? Qui est cette personne ?
20. Quelle construction s'élevait à de l'entrée du parc ? Quel nom de rue en témoigne ?
21. En quelle année ce parc a-t-il été aménagé ?
22. Qu'y avait-il à l'emplacement du parc avant son aménagement ?
23. Combien d'arcades possède le pont dit « des Hollandais » situé dans le parc ?
24. Redescendez la rue de Bruxelles. S'agit-il d'une rue droite ou sinueuse ?
25. Quelle institution longez-vous sur une bonne partie de ce tronçon de rue ?

Rejoignez l'observatoire du paysage.

Boucle noire



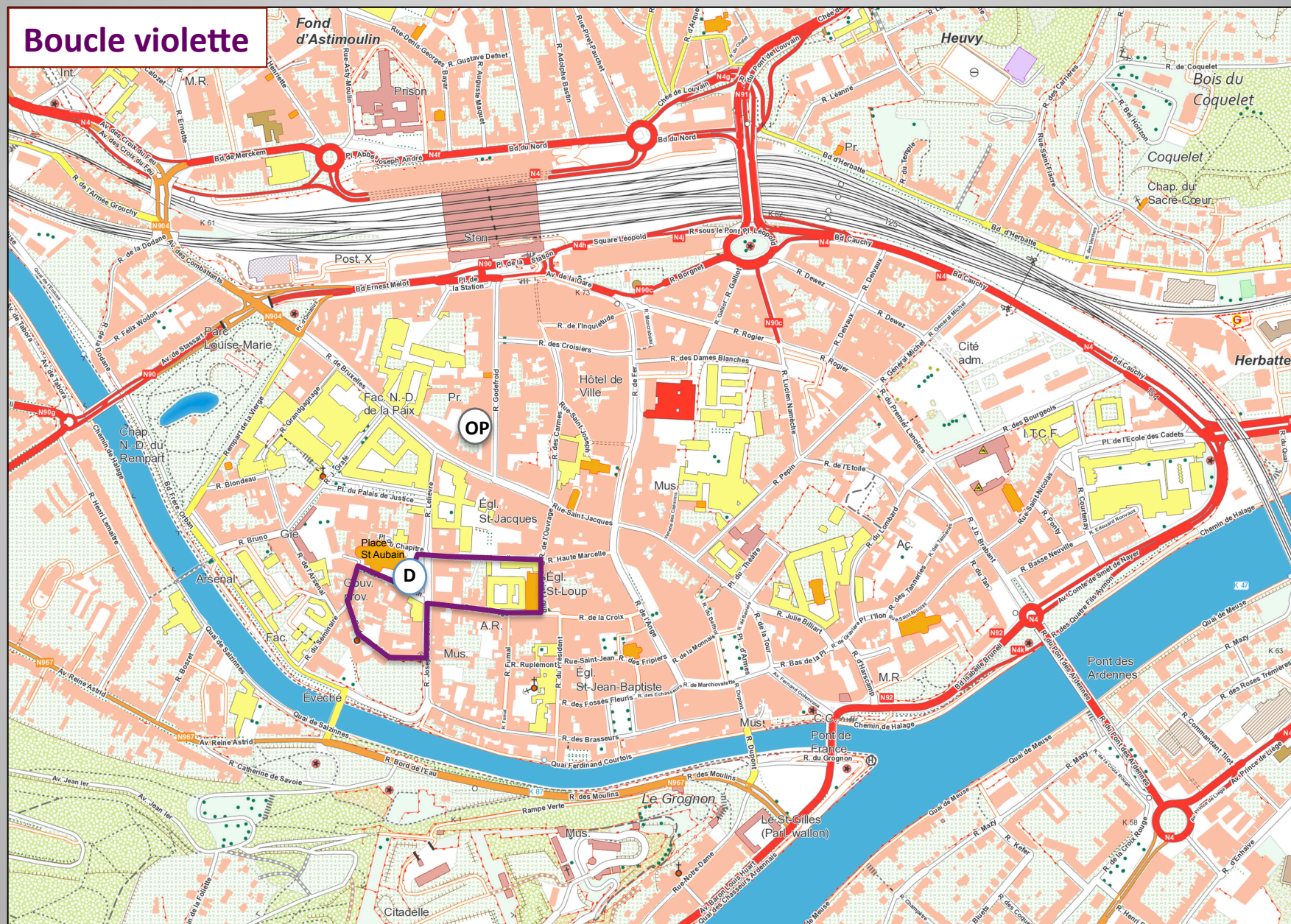


Boucle noire : départ place du palais de justice

1. **Quels sont les deux bâtiments imposants qui se trouvent sur cette place ?**
2. **De quand date la construction du palais de justice ?**
3. **De quel style architectural s'inspire cet édifice ?**
4. **Sur quoi s'appuyait - il ?**
5. **Quelle est l'espèce dominante d'arbres plantée sur cette place ?**
6. **Dirigez-vous vers l'Ouest et traversez la rue. De quelle rue s'agit-il ?**
7. **En quelle année l'université a-t-elle été fondée ?**
8. **Empruntez le passage entre la chapelle et le parking. Quel bâtiment longez-vous ?**
9. **Vous arrivez à hauteur de la rue Grandgagnage. Quelles facultés ont pignon sur cette rue ?**
10. **Descendez la rue et empruntez la rue Blondeau sur votre droite. Au bout de cette rue, sur quelle rue débouchez-vous ?**
11. **En le remontant, vous apercevez une petite église. En quelle année a-t-elle été construite ?**
12. **Quelle autre faculté trouve-t-on dans cette rue ?**
13. **Quelle est l'espèce d'arbres qui borde cette rue ?**
14. **Pénétrez dans le parc en empruntant un petit escalier sur la gauche. Quel est le nom de ce parc ?**
15. **De combien d'arcades est formé le pont situé dans le parc ?**
16. **Dirigez-vous vers la plaine de jeux. Faites un lien entre le rempart de la vierge et l'étang que vous apercevez.**
17. **Sortez du parc et traversez le passage pour piétons pour rejoindre le cours d'eau en empruntant les escaliers. De quel cours d'eau s'agit-il ?**
16. **Dirigez-vous vers la gauche et passez sous la passerelle. Juste après celle-ci, remontez les escaliers sur votre gauche. Empruntez la rue Bruno en face de vous et sur votre droite en contrebas, vous apercevez un bâtiment ancien et allongé. De quel bâtiment s'agit-il ?**
17. **Quel était son rôle autrefois ?**
18. **Pourquoi était-il localisé à cet endroit ?**
19. **Sur ordre de quel illustre personnage a-t-il été construit ?**
20. **Et en quelle année ?**
21. **Quelle est sa fonction aujourd'hui ?**
22. **Longez ce bâtiment. Vous arrivez dans le parking. Á ce niveau, vous apercevez une église. Laquelle ?**
23. **Comment se nomme le tout nouvel auditoire construit sur votre parcours ?**
24. **Vous débouchez dans la rue de l'Arsenal. Tournez à gauche. Dans cette rue se trouvent deux fonctions. Lesquelles ?**
25. **Pourquoi y a -t-il des plots sur la chaussée ?**

Rejoignez l'observatoire du paysage.

Boucle violette

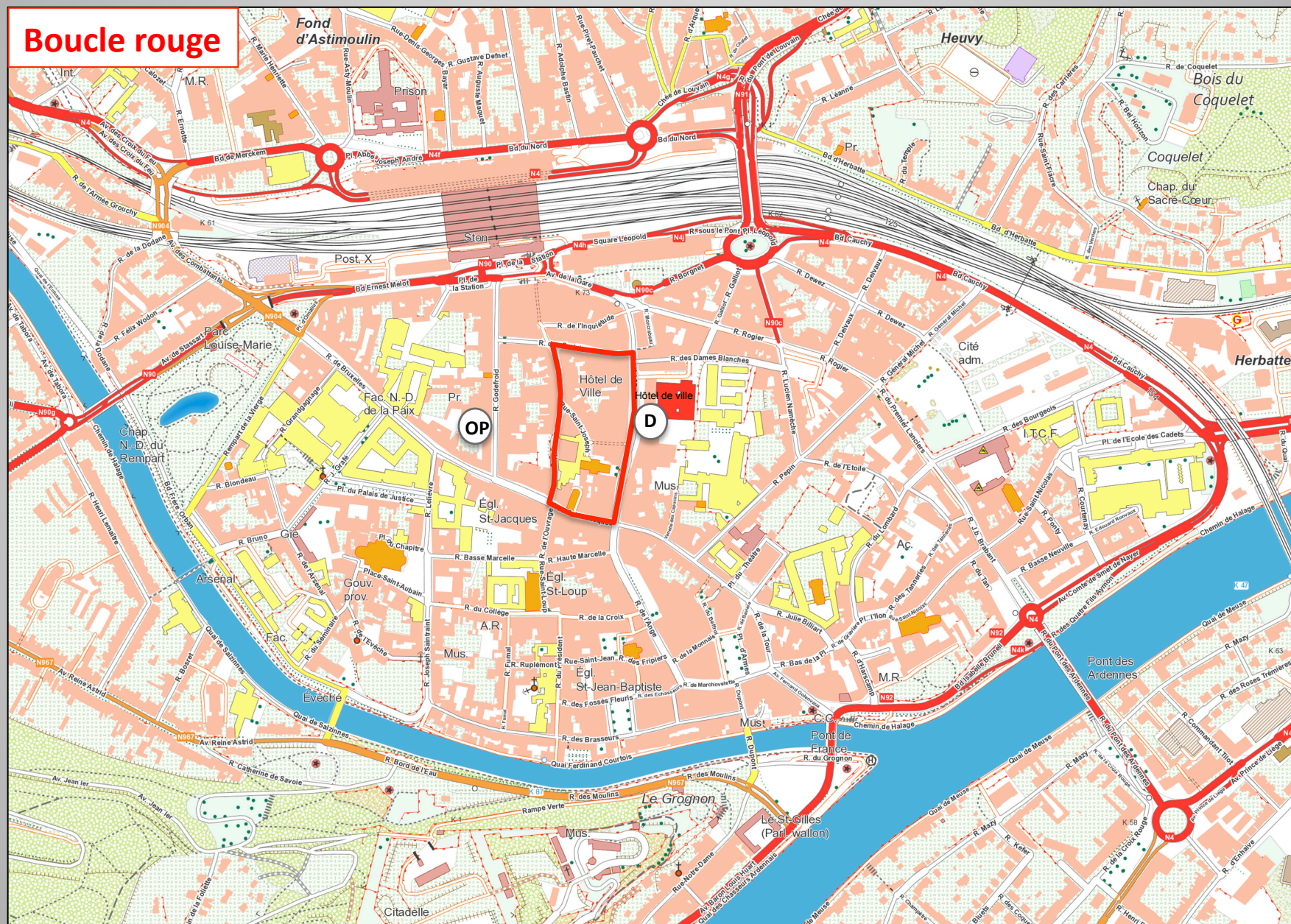




Boucle violette : départ place Saint - Aubain

1. Quels sont les deux bâtiments imposants qui structurent la place ?
 2. Quelle est la date de construction de cette église ?
 3. Á quel emplacement cette église a-t-elle été construite ?
 4. Y a-t-il encore une trace de cet ancien édifice ?
 5. Longez la cathédrale par le Sud. Sous cette cathédrale se trouvent les caves d'un célèbre négociant/éleveur.
Quel est le produit qu'il commerce et depuis quand ?
 6. Á hauteur du café « Le chapitre », vous découvrez la tour de l'ancien église.
Elle est construite en pierre grise. De quel matériau s'agit-il ?
 7. Empruntez la rue du séminaire puis la rue de l'évêché.
Quelle est le nom de la Sainte qui est célébrée dans cette rue ?
 8. Quelle est l'origine de sa réputation ?
 9. Vous longez sur la droite le mur d'une grande propriété. Laquelle ?
 10. Quelle est la date de construction du bâtiment principal de cette propriété ?
 11. Á quel emplacement a-t-il été construit ?
 12. En sortant de la rue de l'évêché, dans quelle rue débouchez-vous ?
 13. Quel est le nom du musée que vous apercevez dans cette rue ?
 14. Quelle est sa date de construction ?
 15. Quel emplacement occupait ce bâtiment autrefois ?
 16. Retour place St Aubain. Empruntez la rue du collègue.
Quelle est la particularité de cette rue au niveau de la circulation ?
 17. Quel est le nom de l'athénée que vous longez ?
 18. Qui fut cet homme ?
 19. Cite un événement qu'il a organisé et qui est toujours d'actualité.
 19. Quelle était la fonction de ce bâtiment lors de sa construction ?
 20. Quel est le nom de l'édifice religieux devant lequel vous passez ?
 21. Quelle est sa date de construction ?
 22. De quelle église est inspiré cet édifice ?
 23. Quel est son style architectural ?
 24. Tournez à gauche et empruntez la rue basse-marcelle. Dans cette rue, vous observez une peinture murale.
sur un pignon. Quelle image du folklore namurois y est représentée ?
- Retour à l'observatoire du paysage.

Boucle rouge



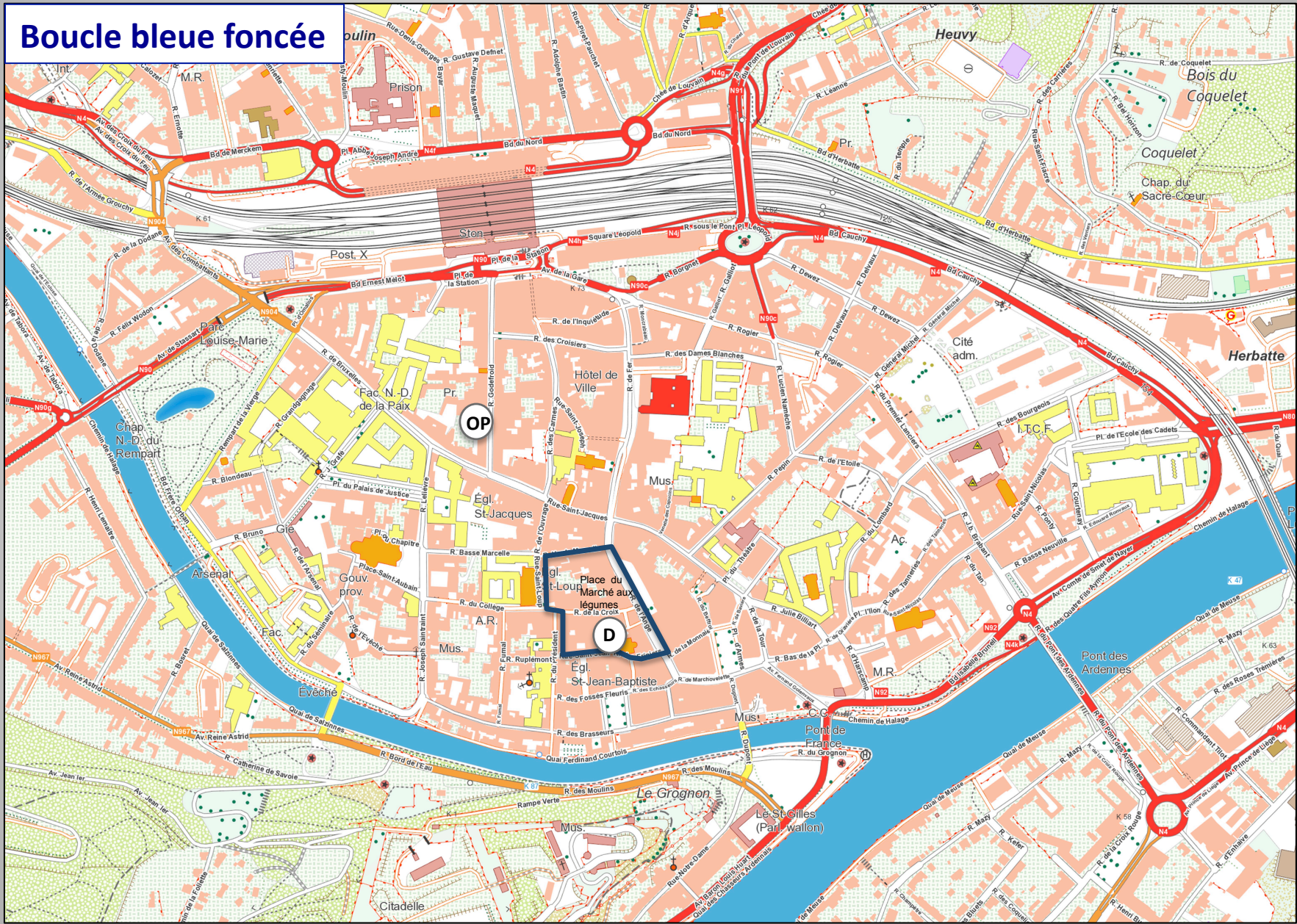


Boucle rouge : départ Hôtel de Ville

1. Pénétrez dans les jardins du Maieur. Quel est le nom de la fresque dessinée sur le pignon du bâtiment ?
2. Avec quelle ville Namur est-elle jumelée ?
3. Quel est l'emblème de la Wallonie ?
4. Quel est la fonction de cette fresque ?
5. Citez trois personnalités wallonnes ?
6. Qui est bourgmestre de Namur ?
7. Revenez dans la rue de fer. Quel est le nom de la galerie face au cinéma Eldorado ?
8. Pourquoi ce nom ?
9. En quelle année cette église a-t-elle été édifée ?
10. De quel style architectural sa façade s'inspire-t-elle ?
11. Face à cet église, vous observez un autre bâtiment intéressant. Lequel ?
12. Qui est propriétaire de ce bâtiment ? N'hésitez - pas à pénétrer dans sa cour intérieure.
13. Au bas de la rue de Fer, empruntez la rue Saint - Jacques. Pourquoi cette rue Saint - Jacques porte-t-elle ce nom ?
14. Quel est son style architectural ?
15. Quelle est sa fonction actuelle ?
16. Empruntez la rue des Carmes. Quel bâtiment est en rupture par rapport à l'harmonie architecturale de la rue ?
17. Quelle est la période de construction de la majorité des bâtiments de cette rue ?
18. Renseignez-vous auprès d'un commerçant pour connaître le style architectural dominant dans cette rue ?
19. Qui est propriétaire du cinéma Caméo ?
20. Qui est le gestionnaire du cinéma ?
21. Quelle est la fonction dominante des rez-de-chaussée des bâtiments ?
22. Et la fonction dominante des étages ?
23. Quel est le nom de la galerie située dans le haut de la rue des Carmes ?
24. Quelles rues parallèles à la rue des Carmes encadrent celle-ci ?
25. Empruntez la rue des Croisiers. Les façades sont-elles similaires ou pas à celles de la rue des Carmes ?

Retour à l'observatoire du paysage.

Boucle bleue foncée



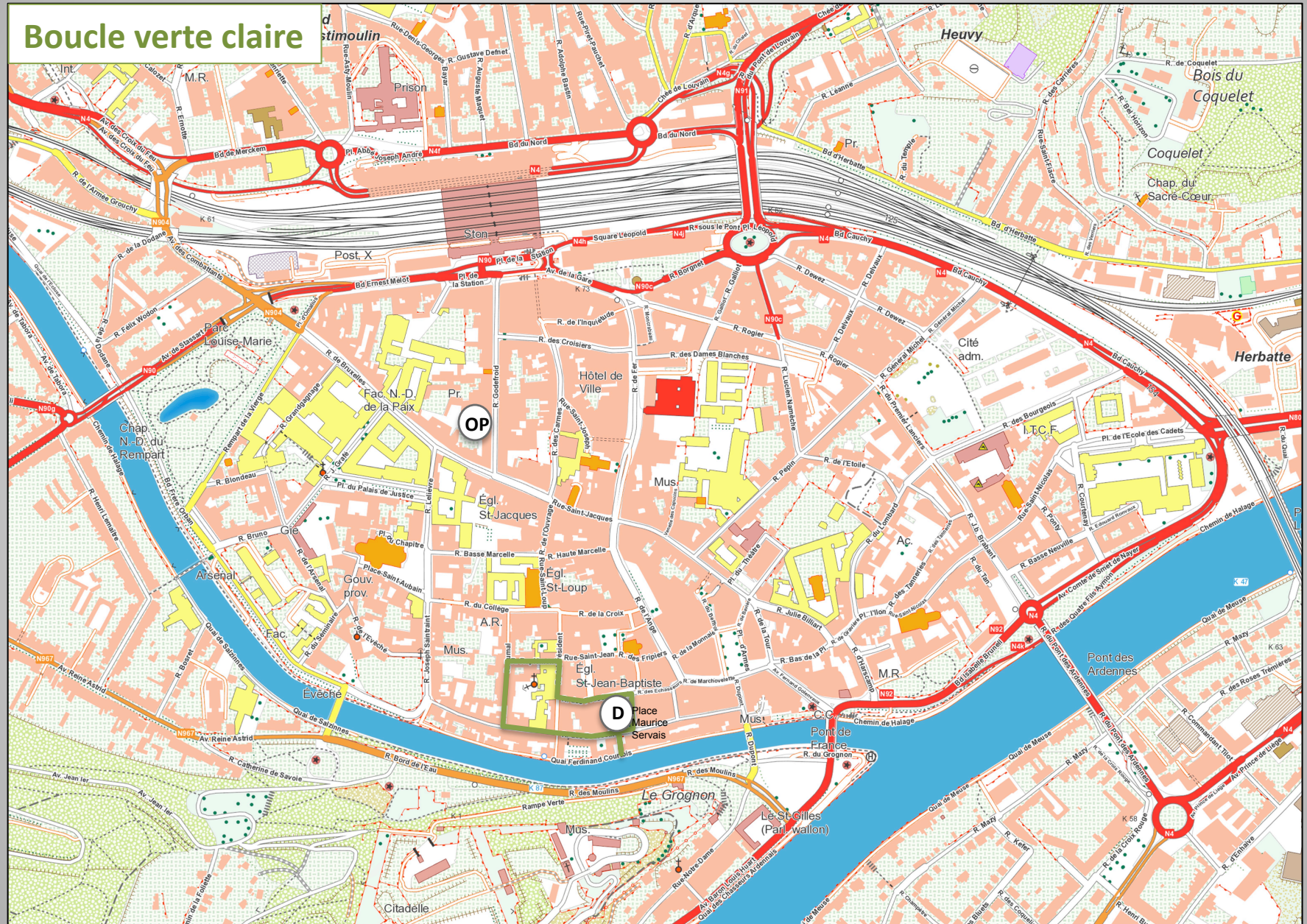


Boucle bleue foncée : départ place du marché aux légumes

1. Quelle était la fonction de la construction située au centre de la place ?
2. Établissez un lien entre cette construction et le nom de la place.
3. Quel est le nom de l'église située sur la place ?
4. Quel est son style architectural ?
5. Dans quelle direction son cœur est-il orienté ?
6. Quel événement a lieu dans cette église le lundi des fêtes de Wallonie ?
7. Quel bâtiment occupait autrefois une partie de la place ?
8. Quelle espèce d'arbres a été plantée sur la place ?
9. Quel est le nom du plus vieux café de Namur ?
10. Identifiez la date de construction d'une des maisons de la place ?
11. Empruntez la rue St Jean puis la rue des fripiers. Qu'est-ce qu'un fripier ?
12. Au bout de la rue des fripiers, sur quelle rue débouchez - vous ?
13. Quelle est l'orientation générale de cette rue ?
14. Quelle est la fonction des rez-de-chaussée de cette rue ?
15. Dirigez-vous vers le nord. Vous longez une place. Déterminez l'origine de son nom ?
16. Quelle est l'âge du monument situé sur la place ?
17. Quelle était sa fonction ? Pour répondre à cette question, faites un lien avec votre point de départ.
18. Au niveau mobilité, quelle est la particularité de cette rue de l'Ange ?
Aidez-vous des informations du panneau « Li bia vélo ».
19. Quels sont les deux matériaux de la majorité des façades de cette rue ?
20. Empruntez la rue Haute Marcelle. Comment se nomme la galerie qui débouche dans cette rue ?
N'hésitez - pas à l'emprunter.
21. Quelle bâtiment ferme la perspective à l'ouest ?
21. Au bout de la rue Haute Marcelle, empruntez la rue St Loup. Pourquoi porte-t-elle ce nom ?
22. Vous arrivez sur la place du Québec. Pourquoi ce nom ?
23. Empruntez la rue du Président. Les maisons de cette rue sont-elles habitées par un ou plusieurs occupants ?
24. Sur quoi vous basez-vous pour affirmer cela ?
25. Prenez la rue St Jean. Au n°6 se trouve un ancien hôtel de maître. Á quel usager servait la large porte cochère ?

Retour à l'observatoire du paysage.

Boucle verte claire



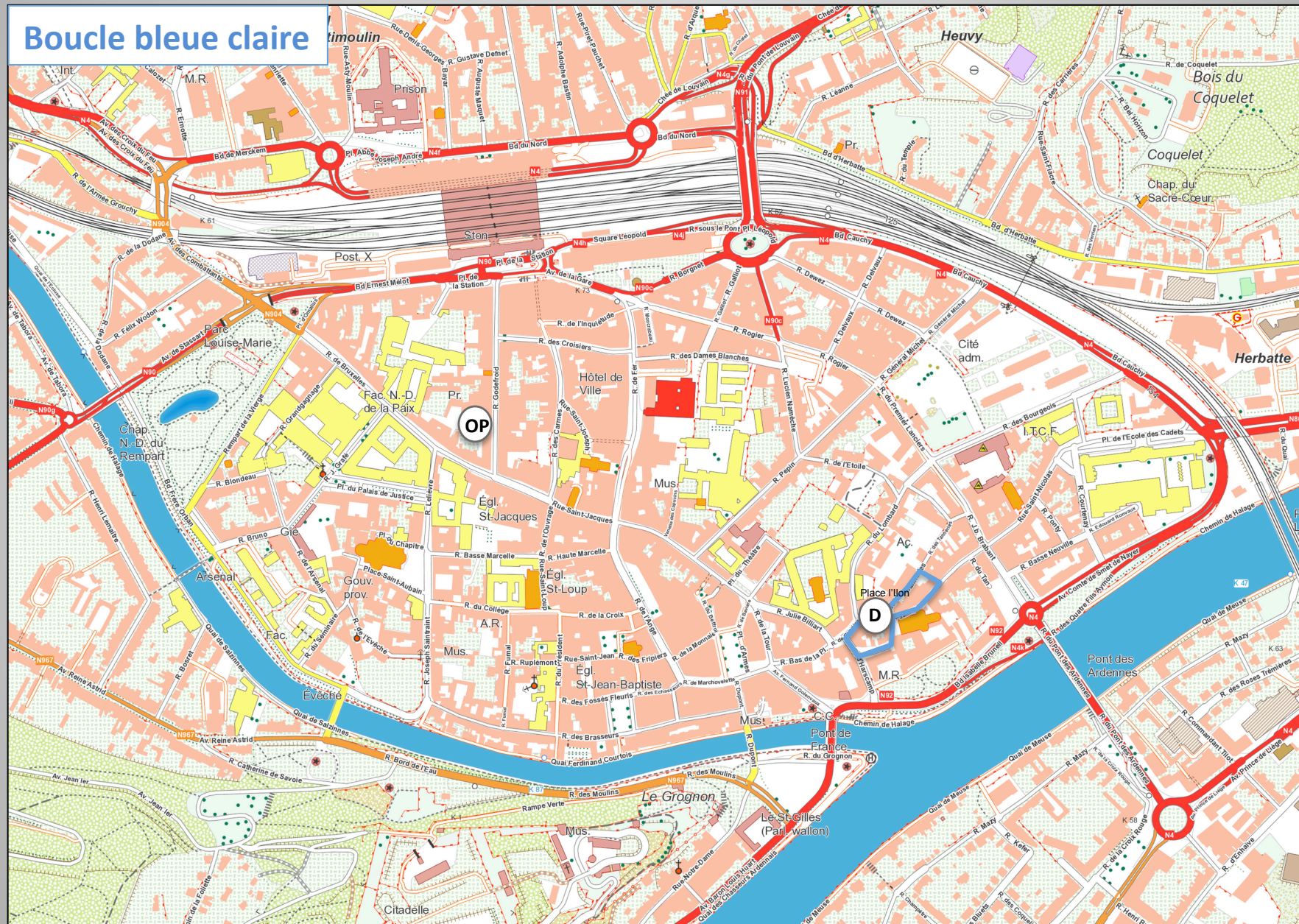


Boucle verte claire : départ place Maurice Servais

1. **Observez les quatre côtés de la place. Lequel vous semble le plus ancien ? Répondez en utilisant les points cardinaux.**
2. **De cette place, vous apercevez deux repères historiques. Lesquels ?**
3. **Quelle est l'espèce d'arbres plantée sur la place ?**
4. **Dirige-toi vers le Sud en direction du cours d'eau. De quel cours d'eau s'agit-il ?**
5. **Quels ponts apercevez-vous du bord du cours d'eau ?**
6. **Quelle est la distance entre Namur et Charleroi par le Ravel ?**
7. **Quel nom est donné à une voirie qui borde un cours d'eau ?**
8. **Revenez sur la place et empruntez la rue des Brasseurs sur votre gauche. Retrouvez le numéro de la maison sur la façade de laquelle se trouve un indice en lien avec le nom de la rue.**
9. **Trouve un élément qui justifie la localisation de cette activité à cet endroit précis ?**
10. **Au cours de quel siècle ont été construites la majorité des maisons de la rue ?**
11. **Empruntez la rue Fumal sur votre droite.
Quelle fonction est occupée par les bâtiments localisés sur votre droite ?**
12. **Qui était Félicien Rops ?**
13. **Comment s'appellent les deux bâtiments culturels localisés sur la partie gauche de la rue ?**
14. **Empruntez la rue Rupplémont. Relevez au niveau d'une des portes une activité ancienne établie dans cette rue ?**
15. **Quelle est l'affectation actuelle de ce bâtiment ?**
16. **Les maisons de cette rue sont-elles habitées par un ou plusieurs occupants ?**
17. **Sur quoi vous basez-vous pour affirmer cela ?**
18. **Vous arrivez rue du président. Comment apparaissent les coins des bâtiments à ce niveau ?**
19. **Avancez une hypothèse à cette observation.**
20. **À quel numéro de maison est né Félicien Rops ?**
21. **Quelle est la fonction principale des rez-de-chaussée de cette rue ?**
22. **Empruntez la rue des Fossé Fleuris. Quelle pourrait bien être l'origine de ce nom ?**
23. **Sur votre gauche, la place Chanoine Descamps. Quel était l'ancien nom de cette place ?**
24. **Retour sur la place Maurice Servais.
À ce niveau se trouve la maison natale d'un personnage bien connu des Namurois. De qui s'agit-il ?**
25. **Pourquoi est-il bien connu des Namurois ?**

Retour à l'observatoire du paysage.

Boucle bleue claire



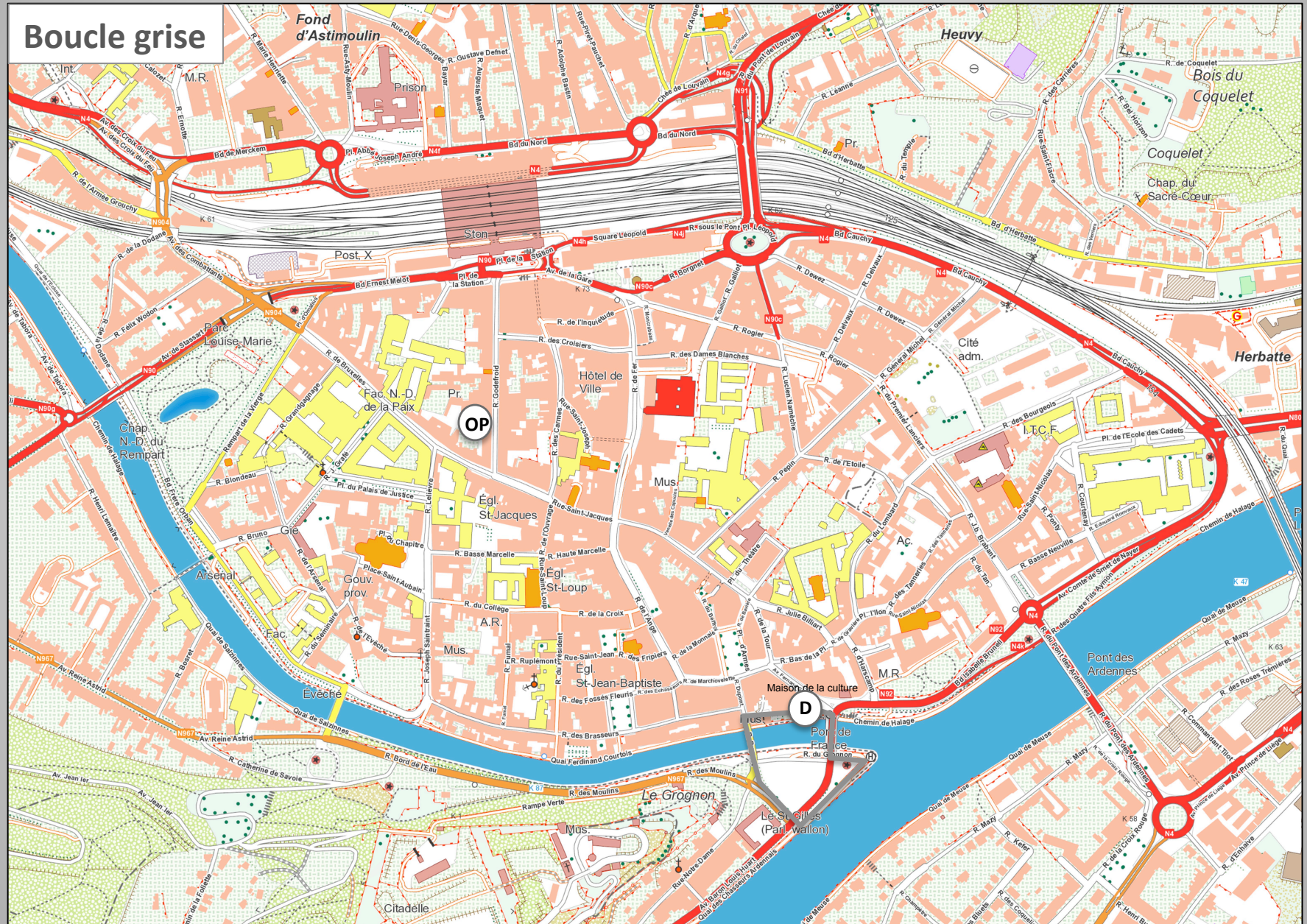


Boucle bleue claire : départ place l'Ilon

1. Ma façade date de 1784. Quel mon numéro de maison ?
3. Que signifie CSC ?
4. Quelles sont les noms des deux rues qui aboutissent à la place l'Ilon par l'Est ?
5. Comment s'appelle l'église qui a pignon sur la place ?
6. Quelle sa période de construction ?
7. Quel est son style architectural ?
8. Est-elle encore en fonction aujourd'hui ?
9. Empruntez la rue Saint Nicolas. S'agit-il d'une rue droite ou sinueuse ?
10. Aux numéros 31 et 33 se trouve une maison gastronomique ouverte en 1988 ? Quel est son nom ?
11. Jetez un coup d'œil sur les maisons de la rue. Sont-elles habitées par un ou plusieurs occupants ?
12. Trouvez deux indices qui en témoignent ?
13. Quelle autre église matérialisée par son clocher apercevez-vous vers l'Est ?
14. Qui a composé Li Bia Bouquet, l'hymne des Wallons ?
15. Empruntez le passage à hauteur du numéro 67 de la rue. Qu'apercevez-vous de particulier au niveau du sol ?
16. Dans quelle rue débouchez-vous au sortir du passage ?
17. C'est quoi une tannerie ?
18. Tournez à gauche. Comment se nomme l'hôtel devant lequel vous passez ?
19. Á l'intérieur de l'hôtel, vous pouvez retirer un document qui indique le nom du cours d'eau qui passe sous la rue ?
20. Ce document indique également le nom des formes observées dans le passage tout à l'heure ?
21. De retour sur la place l'Ilon, dirigez-vous vers l'hospice d'Harscamp et empruntez le passage sur votre droite pour rejoindre l'impasse d'Harscamp. Quelle fonction est occupée par le grand bâtiment de cette impasse ?
22. Que signifie CPAS ?
23. Rejoignez la rue de Gravière. De quelle année date le porche de l'ancien refuge de l'abbaye de Floreffe ?
24. Quelle institution scolaire apercevez-vous de cet endroit ?
25. Á cet endroit arrive la rue « Bas de la Place » mais de quelle place s'agit-il ?

Retour à l'observatoire du paysage.

Boucle grise



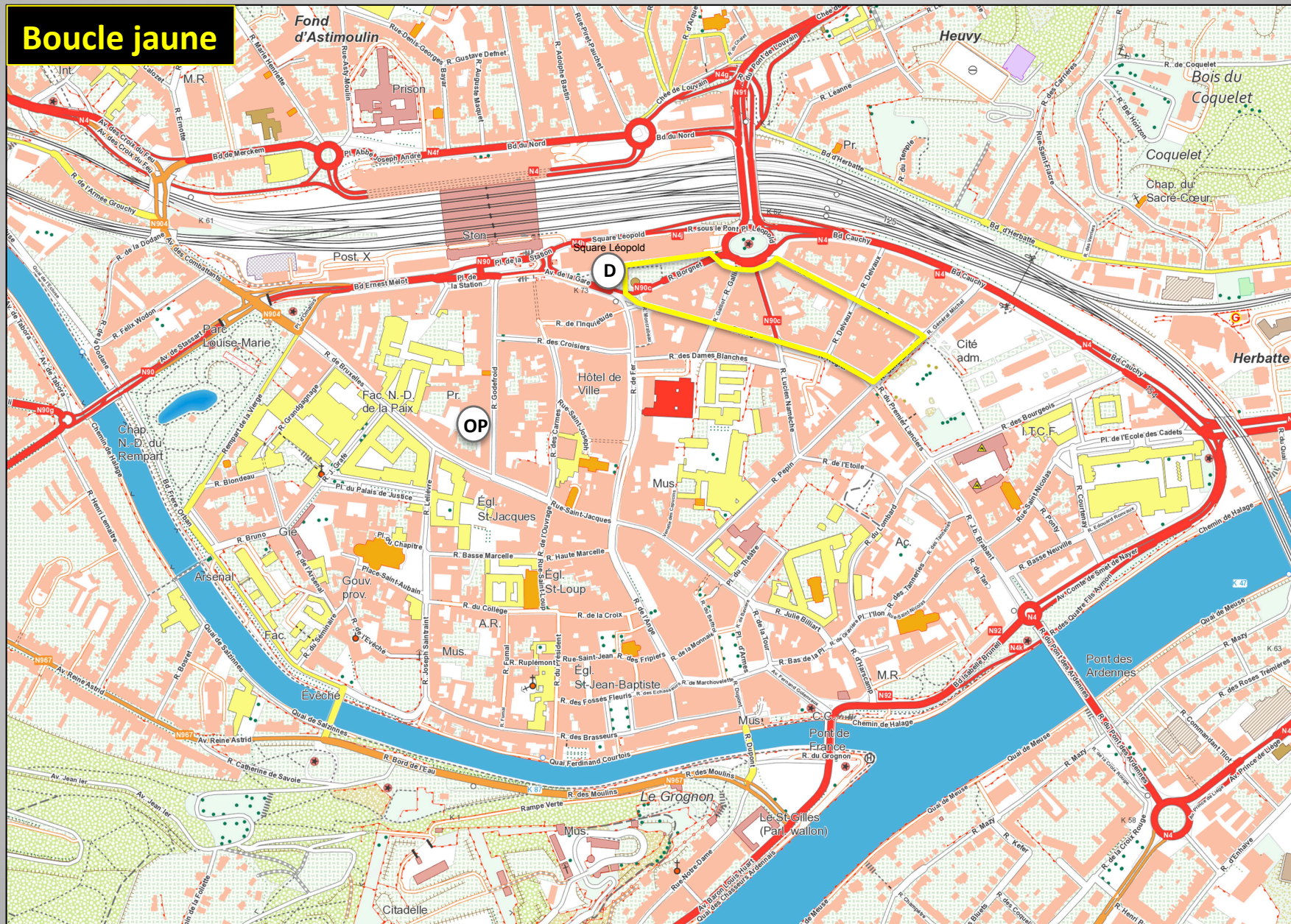


Boucle grise : départ devant la maison de la culture

1. La maison de la culture a été construite en plein cœur d'un ancien quartier. Lequel ?
2. Quel est le nom de la maison de la culture ?
3. En quelle année fut-elle inaugurée ?
4. Qui assure la gestion de ce bâtiment ?
5. Il est situé en bordure de quel cours d'eau ?
6. À proximité de quels ponts se trouve-t-il ?
7. Comment se nomme l'endroit où deux cours d'eau se rejoignent ?
8. À quel lieu symbolique auprès des Namurois ces deux ponts permettent-ils d'accéder ?
9. Quelle ancienne construction militaire domine cet endroit ?
10. À hauteur de la sculpture de Félix Roulin, descendez les escaliers qui mènent au quai le long de la Sambre et longez la maison de la culture par le Sud vers le pont du musée. De quel musée s'agit-il ?
11. Comment s'appelle aussi ce bâtiment ?
12. Quelle est l'origine de ce nom ?
13. Sur le mur nord de ce bâtiment se trouve un repère qui indique le niveau des inondations de quelle année ?
14. En quelle année fut construit ce bâtiment ?
15. Quel est son style architectural ?
16. Quelle activité s'est développée à partir du 13^e siècle le long de la Sambre ?
17. À quoi servaient ces moulins ?
18. Empruntez le pont du musée pour vous retrouver sur le lieu-dit « le grognon ».
Êtes-vous arrivés sur la rive gauche ou la rive droite de la Sambre ?
19. Quelle est le nom du grand bâtiment en briques que vous apercevez au pied de la citadelle ?
20. Quelle est sa fonction actuelle ?
21. Justifiez la présence de cette fonction à Namur ?
22. Dirigez-vous vers la Meuse et traversez prudemment le passage pour piétons au niveau des feux de signalisation.
Empruntez les escaliers qui pour descendre sur le quai de la Meuse. Quel est le nom de ce quai ?
23. Quel est le nom de la ville située sur la rive droite de la Meuse ?
24. Dirigez-vous vers le confluent. Identifiez deux espèces invasives ?
25. Au confluent, remontez les escaliers. Sur quel pont arrivez-vous ?

Rejoignez l'observatoire du paysage.

Boucle jaune

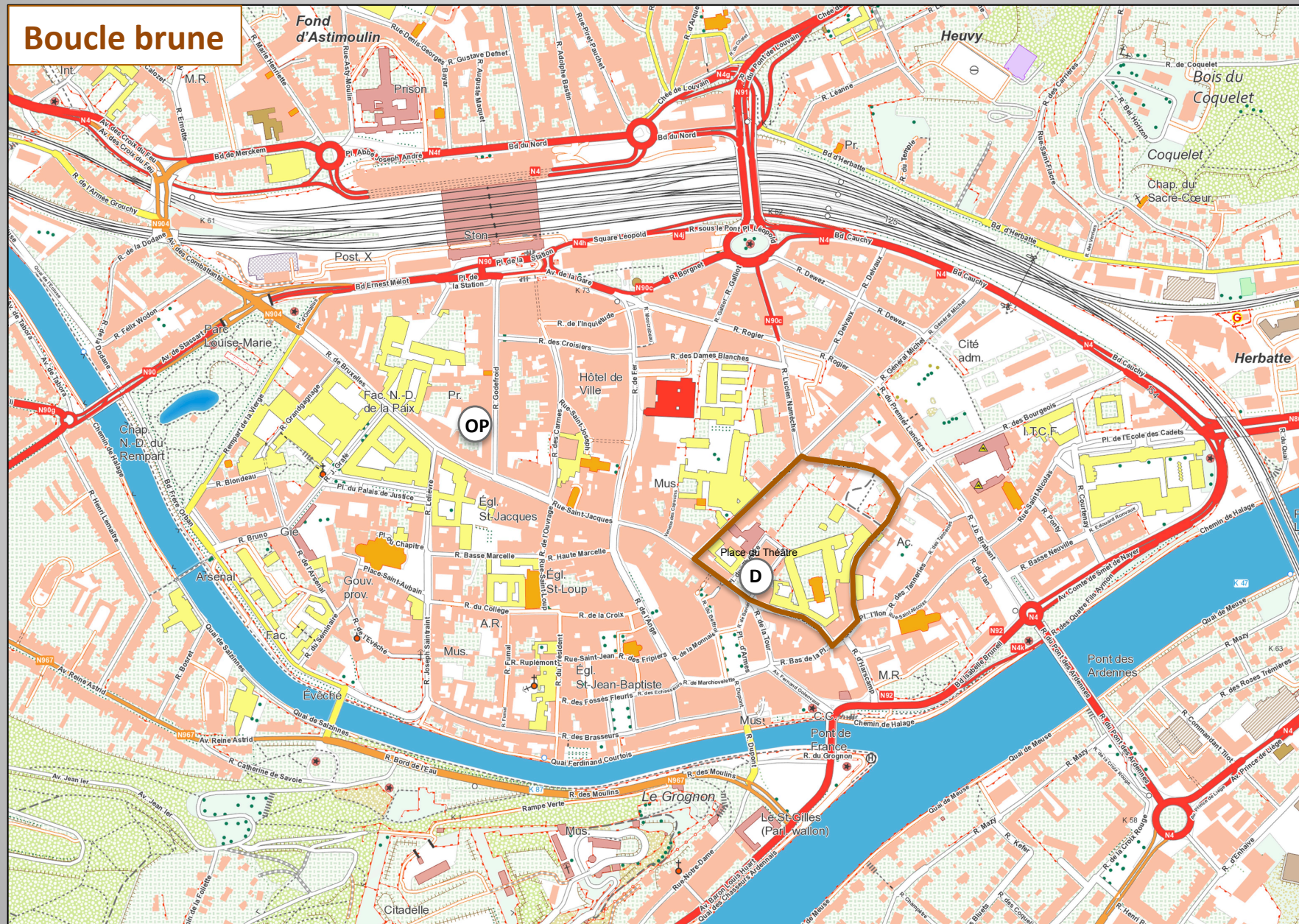




Boucle jaune : départ square Léopold

1. Quel est le nom de la rue qui descend vers le Sud face au square ?
 2. Quelle est la fonction des étages du bâtiment situé au Nord du square ?
 3. Dans quel état sont les commerces du rez-de-chaussée de ce bâtiment ?
 4. Renseignez-vous pour connaître la destinée prochaine de ce bâtiment ?
 5. Où va migrer l'actuelle gare des bus ?
 6. Quelle maison originale rencontrez-vous sur le square ?
 7. Quelle est la fonction cette maison ?
 8. Dirigez-vous vers la place Léopold. De quel Léopold s'agit-il ?
 9. Quelle chaussée aboutit à cette place ?
 10. Quelle est la fonction du bâtiment le plus prestigieux de cette place ?
 11. Quel est le nom du quartier qui apparaît de l'autre côté du pont de Louvain ?
 12. Comment se nomme la rue que sort de la place Léopold en direction de l'Est ?
 13. Quel moyen de communication longe cette voirie ?
 14. Des visages en pierre vous regardent ? Identifiez les numéros des habitations concernées ?
 15. Empruntez la rue Dewez. Arrêtez-vous devant le numéro 41. Quelle est la date de construction de ce bâtiment ?
 16. Que signifie FGTB ?
 17. Évoquez une raison qui explique pourquoi le bâtiment de la FGTB n'est pas en harmonie avec les autres bâtiments de la rue ?
 18. Quels sont les deux matériaux de construction dominants de la majorité des façades de cette rue ?
 19. Les maisons de cette rue sont-elles habitées par un ou plusieurs ménages ?
 20. Sur quoi vous basez-vous pour affirmer cela ?
 21. Au bas de la rue Dewez, vous apercevez en face de vous des bâtiments modernes. De quoi s'agit-il ?
 22. Tournez à droite au bas de la rue Dewez. Quel est le nom du vaste parking qui borde la rue général Michel ?
 23. Que reste-t-il de ces casernes ?
 23. Renseignez - vous sur ce que va devenir le parking ?
 24. Prenez à droite dans la rue Rogier. Quelle est la fonction dominante des rez-de-chaussée de cette rue ?
 25. Quel bâtiment apercevez-vous tout au bout de la rue Rogier ?
- Rejoignez l'observatoire du paysage.

Boucle brune

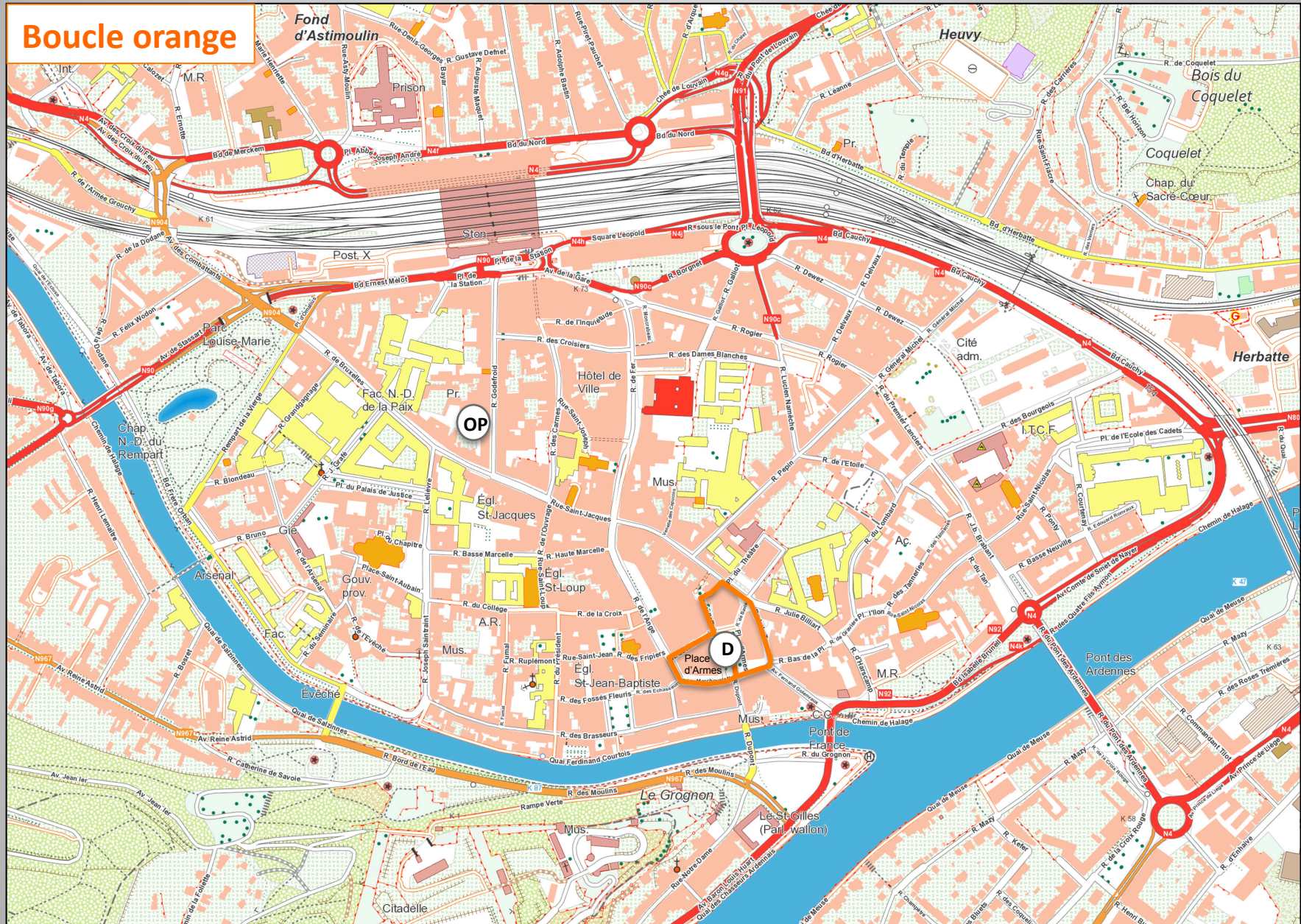




Boucle brune : départ place du théâtre

1. En quelle année le théâtre fut-il inauguré ?
 2. En quel matériau est-il construit ?
 3. Á quel emplacement a-t-il été construit ?
 4. Empruntez la rue Julie Billiard. Qui est cette femme ?
N'hésitez - pas à demander la réponse au n°19 de la rue (accueil de l'institut Notre-Dame).
 5. Rejoignez la rue de Gravière. De quelle année date le porche de l'ancien refuge de l'abbaye de Floreffe ?
 6. Quelle heure est-il rue de Gravière ?
 7. Quel est le nom de l'église que vous apercevez depuis la place l'Illon ?
 8. Empruntez la rue du Lombard. Á quel numéro de cette rue se trouve la statue de Notre-Dame ?
 9. Quelle est la fonction du bâtiment du n°20 ?
 10. Quelle était sa fonction autrefois ?
 11. Quelle est la date de sa construction ?
 12. Dans quel matériau est la corniche de ce bâtiment ?
 13. Quel peintre namurois est honoré dans la cour du bâtiment ?
 14. Quel est la date de la construction du bâtiment du n°26 ?
 15. Empruntez la rue de l'étoile. Quelle est la date de construction du bâtiment à l'angle de la rue ?
 16. Quel est le nom du petit espace vert situé dans cette rue ?
 17. Quelle est la fonction du bâtiment sur lequel vous observez des étoiles ?
 18. Empruntez la rue Pépin sur la gauche. Caractérissez la forme de cette rue ?
 19. Quels sont les deux matériaux de construction dominants de la majorité des façades de cette rue ?
 20. Quel autre matériau apparaît également çà et là sur les façades ?
 21. Et quel est le matériau des corniches ?
 22. Les maisons de cette rue sont-elles habitées par un ou plusieurs occupants ?
 23. Sur quoi vous basez-vous pour affirmer cela ?
 24. Les maisons disposent-elles de caves ?
 25. Citez deux fonctions autres que le logement présentes dans la rue ?
- Rejoignez l'observatoire du paysage.

Boucle orange





Boucle orange : départ place d'Armes

1. La place d'Armes est une place piétonne. Mais où sont passées les voitures autrefois parkées ici ?
 2. Quels bâtiments historiques sont visibles depuis la place ?
 3. Quel bâtiment situé sur la place dénote dans l'ensemble ?
 4. Quel bâtiment ferme la place sur son côté nord ?
 5. Quelle était son ancienne fonction ?
 6. Quel est son style architectural ? Et sa date de construction ?
 7. Quelle activité ce bâtiment a-t-il accueilli entre 1981 et 1998 ?
 8. À proximité de ce bâtiment, vous remarquez la présence de deux personnages bien connus des Namurois. Qui sont-ils ?
 9. Quel animal se trouve en leur compagnie ?
 10. La rue du Pont relie la place d'Armes à quel lieu ?
 11. Empruntez la rue de Marchovelette. Observez l'alignement des façades côté sud.
Quels sont les deux matériaux utilisés dans leur construction ?
 12. Quel est l'âge approximatif de leur construction ?
 13. Remontez vers le Nord en empruntant la rue de l'Ange et tournez tout de suite à droite dans la rue de la Monnaie.
Dirigez-vous vers le beffroi en empruntant le porche sur votre gauche. En quelle année ce porche fut-il édifié ?
 14. Vous arrivez au pied du beffroi. Mais au fait, c'est quoi un beffroi ?
 15. Comment se nomment les symboles des seigneurs et des églises ?
 16. À quelle liste appartient ce beffroi ?
 17. Quelle est l'origine des impacts observés sur ce bâtiment ?
 18. Dirigez-vous vers la place du théâtre. En quelle année fut-il inauguré ?
 19. En quel matériau est-il construit ?
 20. À quel emplacement a-t-il été construit ?
 21. Face au théâtre, vous observez la statue d'un personnage bien connu des Namurois. De qui s'agit-il ?
 22. Qu'a-t-il composé ?
 23. Empruntez la rue de la Tour. Quelle est l'origine du nom de cette rue ?
 24. La tour appartenait à quel ensemble ?
 25. À quel pont donne accès la rue de la Tour ?
- Rejoignez l'observatoire du paysage.